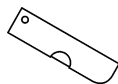


达标测试卷

题号	一	二	三	四	五	六	七	八	九	总分
得分										

一、下列物品对应的价格分别是多少？连一连。（8 分）



13 元 5 角

90 元

5 角 5 分

35 元

二、填空。（共 22 分）

1. 填一填。（11 分）

2 元 = (20) 角

12 角 = (1) 元 (2) 角

6 元 8 角 = (68) 角

35 分 = (3) 角 (5) 分

4 元 5 角 = (40) 角 + 5 角 = (45) 角

8 角 + 5 角 = (13) 角 = (1) 元 (3) 角

2. 看图填空。（6 分）







(60) 元








(15) 元 (6) 角

3. 换一换，填一填。（5 分）

1 张  可以换 (4) 张 .

1 张  可以换 (10) 张 .

1 张  可以换 3 张  和 (4) 张 。

1 张  可以换 (2) 张  和 (1) 张 。

(或 1 3)

三、选择合适的答案填在括号里。(8 分)



1. 买一个  需要 32(元)。

2. 买一个  需要 25(元)。

3. 一个  的价格是 80(角)。

4. 一把  的价格是 50(分)。

四、在○里填上“>”“<”或“=”。(6 分)

9 角 > 15 分 50 角 > 50 分 10 元 < 8 元+3 元

28 角 = 2 元 8 角 25 分 < 3 角 9 元+12 角 > 10 元

五、给下面的钱数排序。(10 分)

1. 3 分 8 元 6 角 7 角 2 分 10 元 9 角

(10 元) > (8 元 6 角) > (9 角) > (7 角 2 分) > (3 分)

2. 1 角 2 分 7 元 6 角 5 角 2 分 76 分 82 角

(1 角 2 分) < (5 角 2 分) < (76 分) < (7 元 6 角) < (82 角)

六、算一算。(12 分)



11元



40元



72元8角





1元




15元

1. 买 1 个  和 1 盒  共需要 (55) 元。









2. 买1盒  和1件  共需要(83)元(8)角。

3. 用20元买1盒  后,剩下的钱可以买(5)听 。

4. 用100元最多可以买(2)个 ,剩下的钱可以买(20)

听 。

七、填表。(9分)

物品	付的钱数	应找回的钱数
 8角		(2角)
 35元	 	(5元)
 70元	 	(30元)

八、购物。(共17分)



35元





20元



18元

1. 如果不需要找钱,那么买  可以怎样付钱?(用算式表示一种付钱方法)(5分)

【答案】 $20+10+5=35$ (元)(答案不唯一)

2. 买一辆玩具  和一辆玩具 , 一共需要多少钱?

(6 分)

【答案】 $20+18=38$ (元)

口答:一共需要 38 元。

3. 小明有 40 元,最多可以买上面的几件物品?(6 分)

【答案】 $20+18=38$ (元) $38<40$

口答:最多可以买上面的两件物品。

九、(创新题)小新和小东在书店里都想买回一本故事书,可小新带的钱差 1 元 3 角,小东带的钱差 1 元 5 角。如果两人带的钱凑起来正好能买一本故事书,那么买这本故事书需要多少钱? 他们各带了多少钱?(8 分)



【答案】1 元 3 角+1 元 5 角=2 元 8 角

小新带了 1 元 5 角,小东带了 1 元 3 角。

口答:买这本故事书需要 2 元 8 角;小新带了 1 元 5 角,小东带了 1 元 3 角。